



# DATUAK EZAGUTZEKO JARDUERA

## Datuak adieraziz: Maskotak

### DATU BILKETA:

Galdetu zure ikaskideei ea maskotarik duten. Hala bada, galdetu ze maskota duten eta zenbat. Ondoren, bete beheko taula ikaskideen emaitzekin.

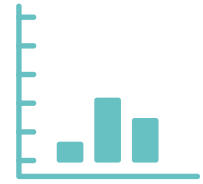
MASKOTA	KOPURUA
Txakurra	
Katua	





# DATUAK EZAGUTZEKO JARDUERA


## Datuak adieraziz: Maskotak



### GRAFIKO BIDEZ ADIERAZTEA:

Orain, saia zaitez lortu dituzun datuak barra-diagrama baten bidez adierazten.

Kopurua



Maskotak

Txakurra

Katua





## DATUAK EZAGUTZEKO JARDUERA

### Datuak adieraziz: Garraioa

#### DATU BILKETA:

Galdetu zure ikaskideei zein den eskolara etortzeko gaur erabili duten garraiobideaa. Ondoren, idatzi garraiobide bera erabili duten ikasleen kopurua.

GARRAIOBIDEA	KOPURUA
Oinez	
Bizikletaz	



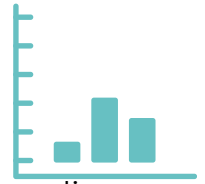


# DATUAK EZAGUTZEKO JARDUERA

## Datuak adieraziz: Garraioa

### GRAFIKO BIDEZ ADIERAZTEA:

Orain, saia zaitez lortu dituzun datuak barra-diagrama baten bidez adierazten.



Kopurua

Oinez

Bizikletaz

Garraiobidea

